

## SOLUCIONARIO

### TALLER 2: PUEBLOS ORIGINARIO

#### I. Nivel elemental.

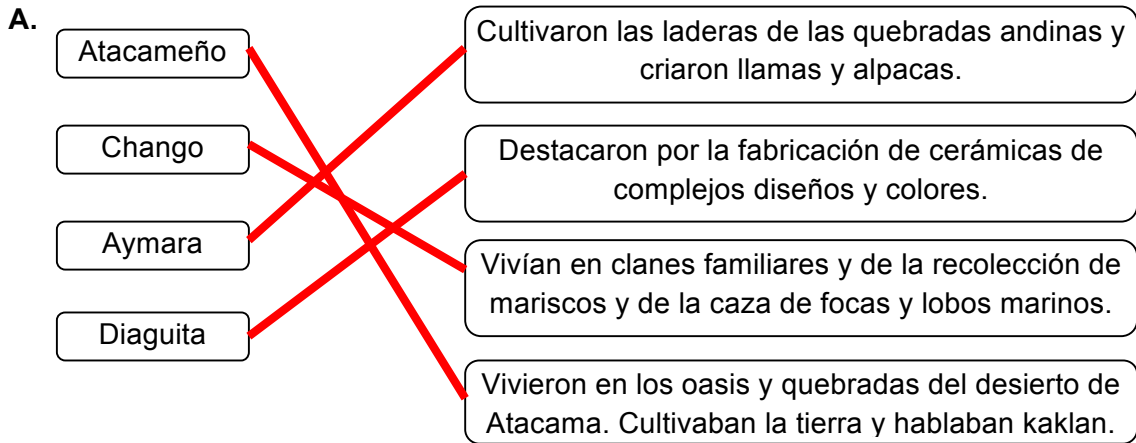
1. a. Menciona al pueblo mapuche.

1.b. Puede mencionar que antes de la llegada de los españoles, los mapuches eran sedentario, cultivaban la tierra, el tejido, la música, construían rucas, entre otras.

2.

	<u>Aymara</u>	Atacameño	Diaguita	Chango
¿Dónde vivían?	<i>En el Altiplano.</i>	En los oasis del desierto de Atacama	En los valles transversales	En la costa de la Zona Norte
¿Cómo era el entorno natural?	<i>Montañoso y desértico, con agua y quebradas.</i>	Desértico, con algunos oasis y quebradas con agua.	Montañoso, seco y con agua en los valles.	Costero, seco y sin agua.
¿A qué se dedicaban?	<i>A la agricultura, la ganadería, textilería y el intercambio de productos.</i>	A la agricultura, la textilería, la cerámica y el intercambio de productos.	A la agricultura, la textilería, la cerámica y el intercambio de productos.	A la pesca y la recolección de productos del mar

**SOLUCIONARIO TALLER 2**  
**HISTORIA, GEOGRAFÍA Y CIENCIAS SOCIALES 4º Básico**



3. Completa la siguiente tabla respondiendo sus preguntas. Sigue el ejemplo.

	<b>Picunches</b>	<b>Mapuches</b>	<b>Huilliches</b>	<b>Pehuenches</b>
<b>¿Dónde vivían?</b>	<i>Entre el río Aconcagua y el río Itata.</i>	Entre el río Itata y el río Tolten.	Zona Sur	Precordillera zona centro-sur
<b>¿Cómo era el entorno natural?</b>	<i>.Valle central, con agua y suelos fértiles.</i>	Con mucha agua, praderas, colinas, lagos, bosques y montañas	Lluvioso, con buenos suelos para la ganadería, la agricultura y la pesca.	Montañoso y frío en la mayor parte del año
<b>¿A qué se dedicaban?</b>	A la agricultura.	A la agricultura, la caza y la recolección.	A la agricultura, la caza y la recolección	<i>A la caza de distintos animales y la recolección de piñón.</i>

## SOLUCIONARIO TALLER 2

### HISTORIA, GEOGRAFÍA Y CIENCIAS SOCIALES 4º Básico

4.

Vivían en la precordillera y se dedicaban a la caza de animales y a la recolección del pehuén o piñón.	<b>Pehuenche</b>
Cultivaron maíz, porotos, papas, zapallos y ají, y criaron guanacos y llamas; también desarrollaron la alfarería.	<b>Picunche</b>
Vivían en la zona sur. Eran sedentarios y practicaban la agricultura y la ganadería.	<b>Huilliche</b>
Los hombres cazaban y preparaban a sus hijos varones para ser buenos guerreros y cazadores. Las mujeres cultivaban la tierra, tejían y recolectaban frutos, con ayuda de los niños.	<b>Mapuche</b>

5.

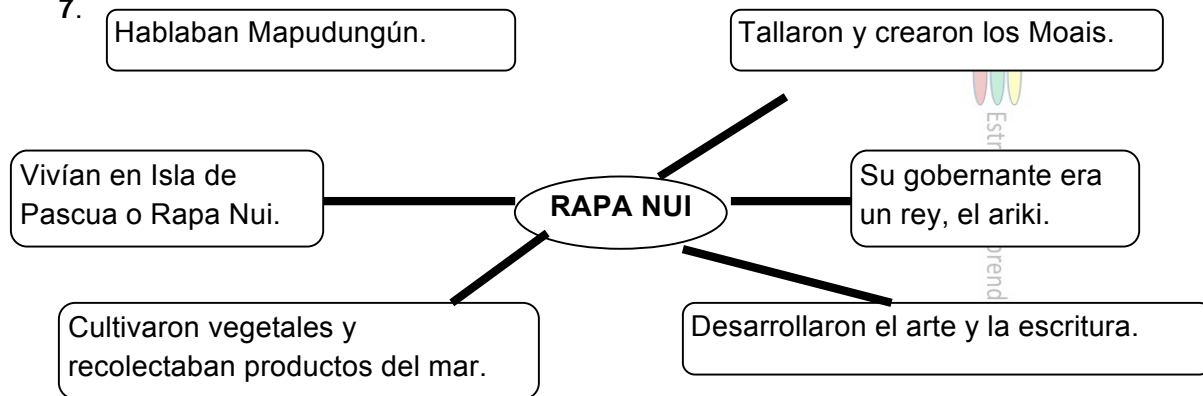
	Selknam	Aónikenk	Chonos	Kawésqar y Yaganes
A. ¿Eran canoeros?		✓	✓	✓
B. ¿Practicaron la caza o la pesca para vivir?	✓	✓	✓	✓
C. ¿Se dedicaron a la agricultura?				
D. ¿Vestían con pieles de guanacos?	✓	✓	✓	✓
E. ¿Fabricaban viviendas con ramas y pieles?	✓	✓		

**SOLUCIONARIO TALLER 2**  
**HISTORIA, GEOGRAFÍA Y CIENCIAS SOCIALES 4º Básico**

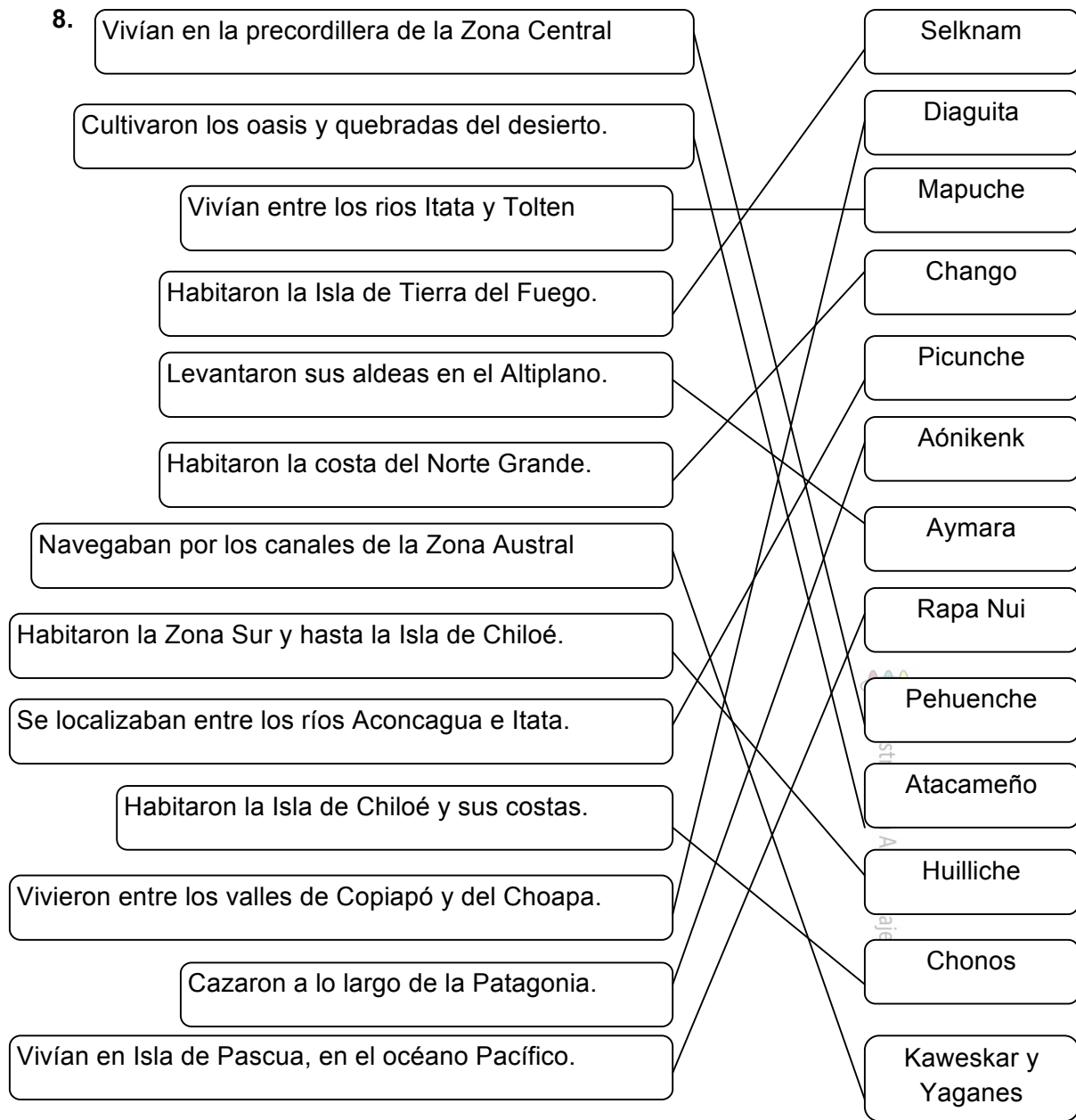
6.

<b>Chonos</b>	<ul style="list-style-type: none"> <li>- Vivían en las islas cercanas a Chiloé.</li> <li>- Era una zona marítima apta para la navegación.</li> <li>- Tenían un clima templado lluvioso.</li> </ul>
<b>Aónikenk</b>	<ul style="list-style-type: none"> <li>- Formaban bandas dedicadas a la caza de guanacos y ñandúes y a la recolección de frutos.</li> <li>- Vivían en la Patagonia, en toldos contruidos con cuero de guanaco, y se vestían con taparrabos hechos de cuero.</li> </ul>
<b>Selknam</b>	<ul style="list-style-type: none"> <li>- Formaban pequeños grupos o bandas que recorrían Tierra del Fuego.</li> <li>- Se dedicaban a la caza del guanaco y a la recolección de huevos, hongos y frutos.</li> <li>- Vivían en toldos fabricados con ramas y pieles de guanaco</li> </ul>
<b>Kawésqar y Yaganes</b>	<ul style="list-style-type: none"> <li>- Navegaban por los canales de la Zona Austral de Chile, en canoas contruidas con troncos y cortezas de árboles.</li> <li>- Para protegerse cubrían sus cuerpos con grasa de pescado y pieles.</li> <li>- Se dedicaban a la pesca y la recolección.</li> </ul>

7.



**SOLUCIONARIO TALLER 2**  
**HISTORIA, GEOGRAFÍA Y CIENCIAS SOCIALES 4º Básico**



**¡ME PREPARO PARA EL SIMCE!**

1. D
2. A
3. B
4. C

Nota: Considere logrado si es que los alumnos alcanzaron al menos 3 de 4 ítems correctos.

## SOLUCIONARIO

### TALLER 2: PUEBLOS ORIGINARIO

#### I. Nivel Adecuado.

1. a. Menciona al pueblo mapuche.

1.b. Puede mencionar que antes de la llegada de los españoles, los mapuches eran sedentario, cultivaban la tierra, el tejido, la música, construían rucas, entre otras.

1.c. Reconocen que los mapuches se localiza en la zona centro sur, entre los ríos Itata y Toltén, principalmente.

2.

	<b><i>Aymara</i></b>	<b>Atacameño</b>	<b>Diaguita</b>	<b>Chango</b>
<b>¿Dónde vivían?</b>	<i>En el Altiplano.</i>	En los oasis del desierto de Atacama	En los valles transversales	En la costa de la Zona Norte
<b>¿Cómo era el entorno natural?</b>	<i>Montañoso y desértico, con agua y quebradas.</i>	Desértico, con algunos oasis y quebradas con agua.	Montañoso, seco y con agua en los valles.	Costero, seco y sin agua.
<b>¿A qué se dedicaban?</b>	<i>A la agricultura, la ganadería, el tejido y el intercambio de productos.</i>	A la agricultura, el tejido, la cerámica y el intercambio de productos.	A la agricultura, el tejido, la cerámica y el intercambio de productos.	A la pesca y la recolección de productos del mar

3.

**A.** Los Aymara se ubicaron en el Altiplano y se dedicaron a la agricultura, la ganadería, el tejido y el intercambio de productos.

**B.** Los changos fue un pueblo que habitó en la Zona Norte y vivía de la pesca y la recolección de recursos del mar.

**C.** En los oasis y quebradas del desierto de Atacama vivieron los Atacameños, que hablaban Kunza y se dedicaron a la agricultura, el tejido, la cerámica y el intercambio de productos.

## SOLUCIONARIO TALLER 2

### HISTORIA, GEOGRAFÍA Y CIENCIAS SOCIALES 4º Básico

D. La cerámica fue uno de los aspectos más sobresalientes de su desarrollo cultural. Habitaron entre los valles del Copiapó y del Choapa.

4. Completa la siguiente tabla respondiendo sus preguntas. Sigue el ejemplo

	<b>Picunches</b>	<b>Mapuches</b>	<b>Huilliches</b>	<b>Pehuenches</b>
<b>¿Dónde vivían?</b>	<i>Entre el río Aconcagua y el río Itata.</i>	Entre el río Itata y el río Tolten.	Zona Sur	Precordillera zona centro-sur
<b>¿Cómo era el entorno natural?</b>	<i>.Valle central, con agua y suelos fértiles.</i>	Con mucha agua, praderas, colinas, lagos, bosques y montañas	Lluvioso, con buenos suelos para la ganadería, la agricultura y la pesca.	Montañoso y frío en la mayor parte del año
<b>¿A qué se dedicaban?</b>	A la agricultura.	A la agricultura, la caza y la recolección.	A la agricultura, la caza y la recolección	<i>A la caza de distintos animales y la recolección de piñón.</i>

5.

<b>Pehuenche</b>	Vivían en la precordillera y se dedicaban a la caza de animales y a la recolección del pehuén o piñón.
<b>Picunche</b>	Cultivaron maíz, porotos, papas, zapallos y ají, y criaron guanacos y llamas; también desarrollaron la alfarería.
<b>Huilliche</b>	Vivían en la zona sur. Eran sedentarios y practicaban la agricultura y la ganadería.
<b>Mapuche</b>	Los hombres cazaban y preparaban a sus hijos varones para ser buenos guerreros y cazadores. Las mujeres cultivaban la tierra, tejían y recolectaban frutos, con ayuda de los niños.

5. a. Reconocen que la cultura mapuche fue influenciada por la presencia de la cordillera de los Andes, los bosques de su entorno, sus lagos y diversidad de flora y fauna.6.

## SOLUCIONARIO TALLER 2

### HISTORIA, GEOGRAFÍA Y CIENCIAS SOCIALES 4º Básico

	Selknam	Aónikenk	Chonos	Kawésqar y Yaganes
A. ¿Eran canoeros?		✓	✓	✓
B. ¿Practicaron la caza o la pesca para vivir?	✓	✓	✓	✓
C. ¿Se dedicaron a la agricultura?	.			
D. ¿Vestían con pieles de guanacos?	✓	✓	✓	✓
E. ¿Fabricaban viviendas con ramas y pieles?	✓	✓		
F. ¿Se dedicaron a la ganadería?	.			

7.

<b>Chonos</b>	<ul style="list-style-type: none"> <li>- Vivían en las islas cercanas a Chiloé.</li> <li>- Era una zona marítima apta para la navegación.</li> <li>- Tenían un clima templado lluvioso.</li> </ul>
<b>Aónikenk</b>	<ul style="list-style-type: none"> <li>- Formaban bandas dedicadas a la caza de guanacos y fiandúes y a la recolección de frutos.</li> <li>- Vivían en la Patagonia, en toldos construidos con cuero de guanaco, y se vestían con taparrabos hechos de cuero.</li> </ul>
<b>Selknam</b>	<ul style="list-style-type: none"> <li>- Formaban pequeños grupos o bandas que recorrían Tierra del Fuego.</li> <li>- Se dedicaban a la caza del guanaco y a la recolección de huevos, hongos y frutos.</li> <li>- Vivían en toldos fabricados con ramas y pieles de guanaco</li> </ul>
<b>Kawésqar y Yaganes</b>	<ul style="list-style-type: none"> <li>- Navegaban por los canales de la Zona Austral de Chile, en canoas construidas con troncos y cortezas de árboles.</li> <li>- Para protegerse cubrían sus cuerpos con grasa de pescado y pieles.</li> <li>- Se dedicaban a la pesca y la recolección.</li> </ul>

8. Reconocen que el frío, la fragmentación del territorio, favoreció el desarrollo de la navegación y el nomadismo.

9. Completa la siguiente información sobre el pueblo Rapa Nui.

*Rapa Nui habita la Isla de Pascua. Vivían del cultivo de vegetales y de la recolección de recursos del mar. Eran gobernados por un rey. Tallaron y construyeron los Moai y desarrollaron un sistema de escritura en tablillas, llamado rongorongo.*



## SOLUCIONARIO TALLER 2

### HISTORIA, GEOGRAFÍA Y CIENCIAS SOCIALES 4º Básico

---

#### ¡ME PONGO A PRUEBA!

10. Anota el nombre del pueblo originario según su localización geográfica.

Vivían en las islas cercanas a Chiloé:	Chonos
Habitaron la costa del Norte Grande:	Chango
Habitan en Isla de Pascua:	Rapa nui
Cultivaron los oasis y quebradas de Atacama:	Atacameños
Habitaron la isla de Tierra del Fuego:	Selknam
Cazaron a lo largo de la Patagonia:	Aonikenk
Vivieron entre los valles de Copiapó y del Choapa:	Diaguita
Habitaron la Zona Sur y hasta la Isla de Chiloé:	Huilliche
Levantaron sus aldeas en el Altiplano:	Aymara
Vivían entre los ríos Itata y Tolten:	Mapuche
Se localizaban entre los ríos Aconcagua e Itata:	Picunche
Navegaban por los canales de la Zona Austral :	Yaganes y kawésqar
Vivieron en la precordillera del Valle Central:	Pehuenche

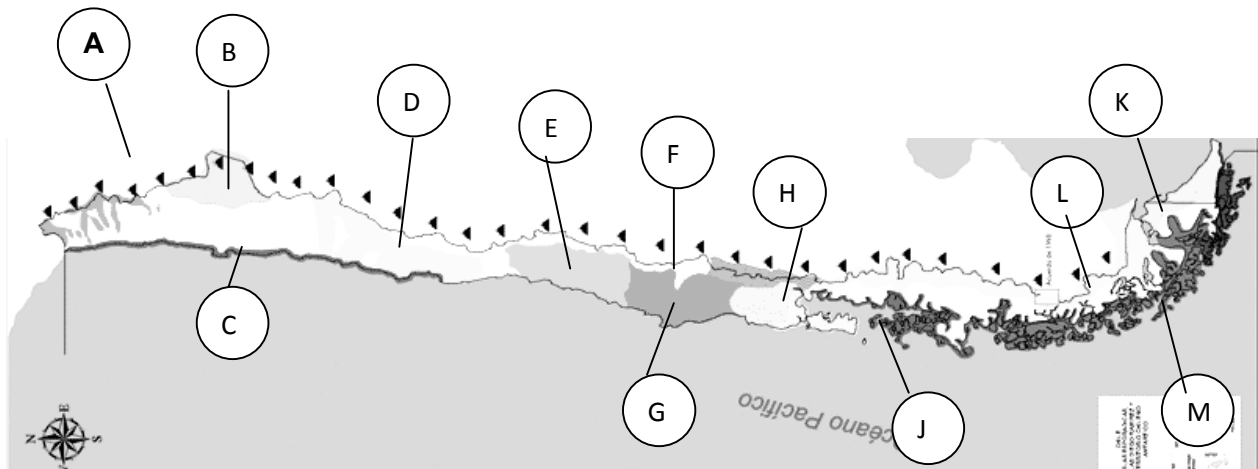
Estratégica Aprendizaje

## SOLUCIONARIO TALLER 2

### HISTORIA, GEOGRAFÍA Y CIENCIAS SOCIALES 4º Básico

11. Ubica los pueblos originarios en siguiente mapa de Chile, anotando la letra de la simbología donde corresponda. Sigue el ejemplo.

- |              |              |             |                       |
|--------------|--------------|-------------|-----------------------|
| A. Aymara    | B. Atacameño | C. Chango   | D. Diaguita           |
| E. Picunches | F. Pehuenche | G. Mapuche  | H. Huilliche          |
| J. Chono     | K. Selknam   | L. Aónikenk | M. Kawésqay y Yaganes |



¡ME PREPARO PARA EL SIMCE!

1. A
2. B
3. C
4. A

Nota: Considere logrado si es que los alumnos alcanzaron al menos 3 de 4 ítems correctos.

## SOLUCIONARIO

### TALLER 2: PUEBLOS ORIGINARIO

#### I. Nivel Avanzado.

1. a. Menciona al pueblo mapuche.
- 1.b. Puede mencionar que antes de la llegada de los españoles, los mapuches eran sedentario, cultivaban la tierra, el tejido, la música, construían rucas, entre otras.
- 1.c. Reconocen que los mapuches se localiza en la zona centro sur, entre los ríos Itata y Toltén, principalmente.
- 1.d. Mencionan el uso del cultrún, la trutruca en la creación musical; el idioma mapudungun, el machitún, el guillatún, el tejido, entre otras.

2.

	<b><u>Aymara</u></b>	<b>Atacameño</b>	<b>Diaguita</b>	<b>Chango</b>
<b>¿Dónde vivían?</b>	<i>En el Altiplano.</i>	En los oasis del desierto de Atacama	En los valles transversales	En la costa de la Zona Norte
<b>¿Cómo era el entorno natural?</b>	<i>Montañoso y desértico, con agua y quebradas.</i>	Desértico, con algunos oasis y quebradas con agua.	Montañoso, seco y con agua en los valles.	Costero, seco y sin agua.
<b>¿A qué se dedicaban?</b>	<i>A la agricultura, la ganadería, el tejido y el intercambio de productos.</i>	A la agricultura, el tejido, la cerámica y el intercambio de productos.	A la agricultura, el tejido, la cerámica y el intercambio de productos.	A la pesca y la recolección de productos del mar

3.

**A.** Los Aymara se ubicaron en el Altiplano y se dedicaron a la agricultura, la ganadería, el tejido y el intercambio de productos.

**B.** Los changos fue un pueblo que habitó en la Zona Norte y vivía de la pesca y la recolección de recursos del mar.

**C.** En los oasis y quebradas del desierto de Atacama vivieron los Atacameños, que hablaban Kunza y se dedicaron a la agricultura, el tejido, la cerámica y el intercambio de productos.

**D.** La cerámica fue uno de los aspectos más sobresalientes de su desarrollo cultural. Habitaron entre los valles del Copiapó y del Choapa.

## SOLUCIONARIO TALLER 2

### HISTORIA, GEOGRAFÍA Y CIENCIAS SOCIALES 4º Básico

4. Explica que la presencia de oasis y quebradas en el desierto de Atacama posibilitó el desarrollo agrícola de los atacameños. En el caso, de los Aymaras, comenta que la presencia del Altiplano, le permitió contar con agua y praderas suficientes para desarrollar el pastoreo de llamas, alpacas y vicuñas. En el caso de los Chango, menciona que la presencia de la corriente de Humboldt les permitió disponer de una gran variedad de recursos marinos que facilitó su inclinación por la pesca. Finalmente, explica que para el caso de los diaguitas la existencia de los valles transversales les permitió contar con una superficie cultivable en medio de un clima seco y un relieve montañoso.

5.

	<b>Picunches</b>	<b>Mapuches</b>	<b>Huilliches</b>	<b>Pehuenches</b>
<b>¿Dónde vivían?</b>	<i>Entre el río Aconcagua y el río Itata.</i>	Entre el río Itata y el río Tolten.	Zona Sur	Precordillera zona centro-sur
<b>¿Cómo era el entorno natural?</b>	<i>.Valle central, con agua y suelos fértiles.</i>	Con mucha agua, praderas, colinas, lagos, bosques y montañas	Lluvioso, con buenos suelos para la ganadería, la agricultura y la pesca.	Montañoso y frío en la mayor parte del año
<b>¿A qué se dedicaban?</b>	A la agricultura.	A la agricultura, la caza y la recolección.	A la agricultura, la caza y la recolección	<i>A la caza de distintos animales y la recolección de piñón.</i>

6.

<b>Pehuenche</b>	Vivían en la precordillera y se dedicaban a la caza de animales y a la recolección del pehuén o piñón.
<b>Picunche</b>	Cultivaron maíz, porotos, papas, zapallos y ají, y criaron guanacos y llamas; también desarrollaron la alfarería.
<b>Huilliche</b>	Vivían en la zona sur. Eran sedentarios y practicaban la agricultura y la ganadería.
<b>Mapuche</b>	Los hombres cazaban y preparaban a sus hijos varones para ser buenos guerreros y cazadores. Las mujeres cultivaban la tierra, tejían y recolectaban frutos, con ayuda de los niños.

## SOLUCIONARIO TALLER 2

### HISTORIA, GEOGRAFÍA Y CIENCIAS SOCIALES 4º Básico

6. a. Menciona alguna de las siguientes razones: fue uno de los más numerosos a la llegada de los españoles, habitó en el área geográfica que se transformaría en la cuna de la sociedad chilena, resistió la dominación española, entre otras.

7.

	Selknam	Aónikenk	Chonos	Kawésqar y Yaganes
A. ¿Eran canoeros?		✓	✓	✓
B. ¿Practicaron la caza o la pesca para vivir?	✓	✓	✓	✓
C. ¿Se dedicaron a la agricultura?	.			
D. ¿Vestían con pieles de guanacos?	✓	✓	✓	✓
E. ¿Fabricaban viviendas con ramas y pieles?	✓	✓		
F. ¿Se dedicaron a la ganadería?	.			

8.

<b>Chonos</b>	<ul style="list-style-type: none"> <li>- Vivían en las islas cercanas a Chiloé.</li> <li>- Era una zona marítima apta para la navegación.</li> <li>- Tenían un clima templado lluvioso.</li> </ul>
<b>Aónikenk</b>	<ul style="list-style-type: none"> <li>- Formaban bandas dedicadas a la caza de guanacos y ñandúes y a la recolección de frutos.</li> <li>- Vivían en la Patagonia, en toldos construidos con cuero de guanaco, y se vestían con taparrabos hechos de cuero.</li> </ul>
<b>Selknam</b>	<ul style="list-style-type: none"> <li>- Formaban pequeños grupos o bandas que recorrían Tierra del Fuego.</li> <li>- Se dedicaban a la caza del guanaco y a la recolección de huevos, hongos y frutos.</li> <li>- Vivían en toldos fabricados con ramas y pieles de guanaco</li> </ul>
<b>Kawésqar y Yaganes</b>	<ul style="list-style-type: none"> <li>- Navegaban por los canales de la Zona Austral de Chile, en canoas construidas con troncos y cortezas de árboles.</li> <li>- Para protegerse cubrían sus cuerpos con grasa de pescado y pieles.</li> <li>- Se dedicaban a la pesca y la recolección.</li> </ul>

9. Reconocen que el frío, la fragmentación del territorio, favoreció el desarrollo de la navegación y el nomadismo.

## SOLUCIONARIO TALLER 2

### HISTORIA, GEOGRAFÍA Y CIENCIAS SOCIALES 4º Básico

10. Menciona que la cultura Rapa Nui habita una isla en medio del océano Pacífico, que le permite el desarrollo de una agricultura tropical, la pesca y la recolección de otros productos del mar.

#### ¡ME PONGO A PRUEBA!

10. Anota el nombre del pueblo originario según su localización geográfica.

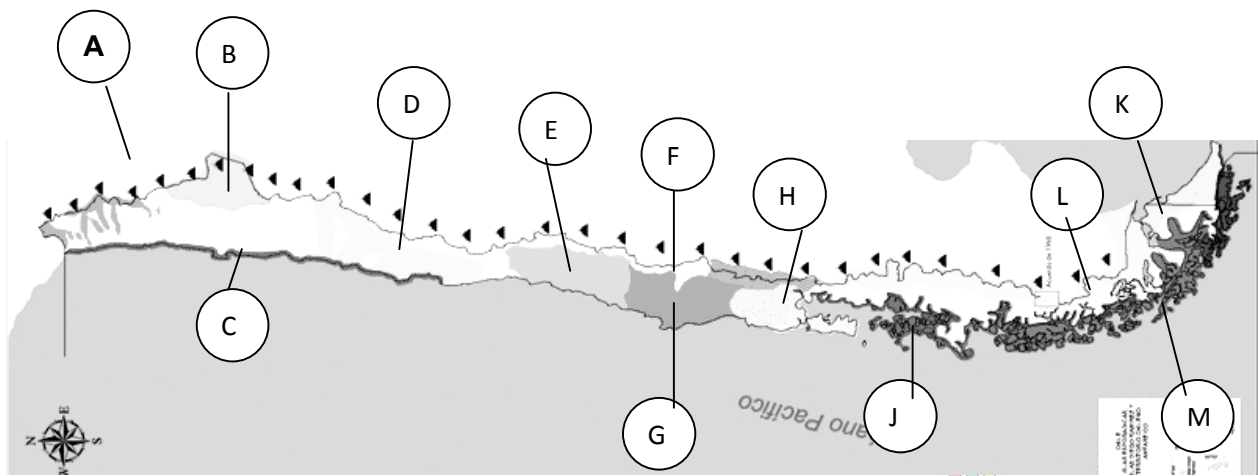
Vivían en las islas cercanas a Chiloé:	Chonos
Habitaron la costa del Norte Grande:	Chango
Habitan en Isla de Pascua:	Rapa nui
Cultivaron los oasis y quebradas de Atacama:	Atacameños
Habitaron la isla de Tierra del Fuego:	Selknam
Cazaron a lo largo de la Patagonia:	Aonikenk
Vivieron entre los valles de Copiapó y del Choapa:	Diaguita
Habitaron la Zona Sur y hasta la Isla de Chiloé:	Huilliche
Levantaron sus aldeas en el Altiplano:	Aymara
Vivían entre los ríos Itata y Tolten:	Mapuche
Se localizaban entre los ríos Aconcagua e Itata:	Picunche
Navegaban por los canales de la Zona Austral :	Yaganes y kawésqar
Vivieron en la precordillera del Valle Central:	Pehuenche

## SOLUCIONARIO TALLER 2

### HISTORIA, GEOGRAFÍA Y CIENCIAS SOCIALES 4º Básico

12. Ubica los pueblos originarios en siguiente mapa de Chile, anotando la letra de la simbología en el sector del territorio donde corresponda..

- |              |              |             |                       |
|--------------|--------------|-------------|-----------------------|
| A. Aymara    | B. Atacameño | C. Chango   | D. Diaguita           |
| E. Picunches | F. Pehuenche | G. Mapuche  | H. Huilliche          |
| J. Chono     | K. Selknam   | L. Aónikenk | M. Kawéskay y Yaganes |



**¡ME PREPARO PARA EL SIMCE!**

1. C
2. B
3. C
4. A

Nota: Considere logrado si es que los alumnos alcanzaron al menos 3 de 4 ítems correctos.